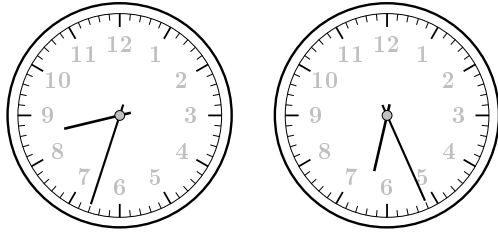


解答


時計のよみかた II その 1

- (1) 5 時 15 分    4 時 57 分  
(2)




時計のよみかた II その 2

- (1) 0(または 12) 時 14 分    9 時 31 分  
(2)



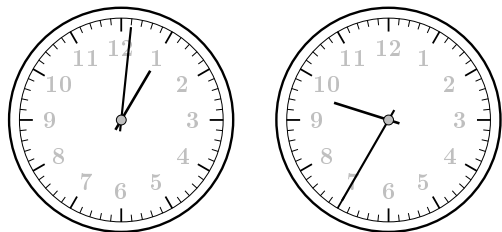
時計のよみかた II その 3

- (1) 4 時 8 分    0(または 12) 時 22 分  
(2)




時計のよみかた II その 4

- (1) 10 時 47 分    4 時 54 分  
(2)



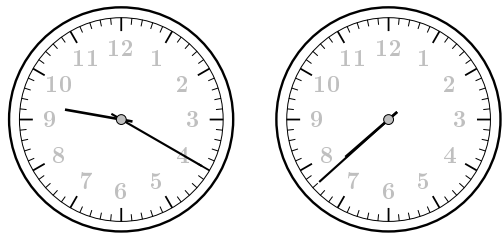
時計のよみかた II その 5

- (1) 9 時 26 分    6 時 48 分  
(2)



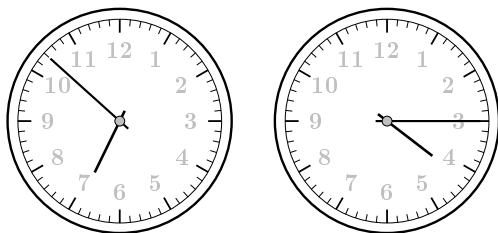
時計のよみかた II その 6

- (1) 8 時 17 分    5 時 49 分  
(2)




時計のよみかた II その 7

- (1) 9 時 47 分    3 時 8 分  
(2)



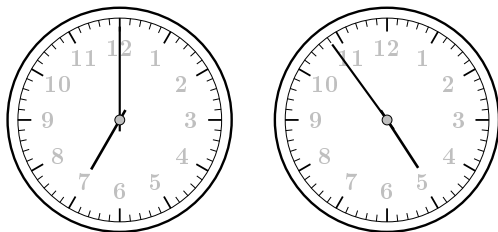
時計のよみかた II その 8

- (1) 10 時 0 分    9 時 18 分  
(2)



時計のよみかた II その 9

- (1) 6 時 22 分    5 時 33 分  
(2)



時計のよみかた II その 10

- (1) 1 時 59 分    10 時 26 分  
(2)

